


**PROPOSTA DI ATTIVITÀ DI MATEMATICA PER LE CLASSI PRIME DI
ROCCAFRANCA DAL 3 ALL'8 GIUGNO 2020**

CIAO BAMBINI!

SONO IL **BRUCO NUMERINO**



ECCOCI ARRIVATI ALL'ULTIMA SETTIMANA DI
SCUOLA MIEI PICCOLI AMICI. È STATO UN
ANNO MOLTO STRANO PERCHÉ PER IL
CORONAVIRUS NON SIAMO PIÙ POTUTI
TORNARE NELLE NOSTRE BELLISSIME AULE, MA
VOI SIETE STATI FANTASTICI: ANCHE A CASA
AVETE LAVORATO CON TANTO IMPEGNO E
IO E LE MAESTRE SIAMO DAVVERO
ORGOGLIOSI DI VOI! BRAVISSIMI!

MATEMATICA

SVOLGI LE SEGUENTI ATTIVITÀ SUL QUADERNO GIALLO.

1. SOTTRAZIONI A MENTE

ECCO PER TE DELLE SOTTRAZIONI DA RISOLVERE CON IL CALCOLO MENTALE.

$$20 - 10 =$$

$$15 - 9 =$$

$$3 - 2 =$$

$$12 - 8 =$$

$$11 - 7 =$$

$$20 - 2 =$$

$$9 - 9 =$$

$$18 - 6 =$$

$$13 - 7 =$$

$$15 - 2 =$$

$$19 - 4 =$$

$$10 - 5 =$$

$$20 - 0 =$$


$$7 - 3 =$$

$$9 - 3 =$$

2. SOTTRAZIONI CON I NUMERI GEMELLI

TORNANO A TROVARCI I NUMERI GEMELLI: TI RICORDI QUALI SONO?

SONO I NUMERI UGUALI TRA DI LORO. ECCOLO QUI NELLA FOTO.



OGGI PROVIAMO A FARE INSIEME UN NUOVO ESERCIZIO SUI NUMERI

GEMELLI: LE SOTTRAZIONI. SEI PRONTO A SCOPRIRLE?

GUARDA CON ATTENZIONE QUESTO VIDEO:

<http://www.icrudiano.edu.it/ricordi/2020/05/30/tutorial-matematica-dal-3-all8-giugno/>

SONO MOLTO FACILI DA RICORDARE LE SOTTRAZIONI CON I NUMERI GEMELLI

VERO? IL RISULTATO È SEMPRE ZERO.

ORA TOCCA A TE. SCRIVI COME TITOLO (in rosso): **SOTTRAZIONI CON I NUMERI GEMELLI.**

POI RICOPIA QUESTE SOTTRAZIONI E CALCOLA IL RISULTATO.

$$1 - 1 =$$

$$2 - 2 =$$

$$3 - 3 =$$

$$4 - 4 =$$

$$5 - 5 =$$

$$6 - 6 =$$

$$7 - 7 =$$

$$8 - 8 =$$

$$9 - 9 =$$

$$10 - 10 =$$

POTREMMO ANDARE AVANTI ANCHE FINO AL 20 O ANCHE ALL'INFINITO.

RICORDATI LA REGOLA: QUANDO FAI UNA SOTTRAZIONE CON DUE NUMERI UGUALI TRA DI LORO IL RISULTATO FA SEMPRE ZERO.

CONTROLLA SE HAI LAVORATO BENE, GUARDANDO L'IMMAGINE QUI SOTTO.

SOTTRAZIONI CON I NUMERI GEMELLI

$$1 - 1 = 0$$

$$2 - 2 = 0$$

$$3 - 3 = 0$$

$$4 - 4 = 0$$

$$5 - 5 = 0$$

$$6 - 6 = 0$$

$$7 - 7 = 0$$

$$8 - 8 = 0$$

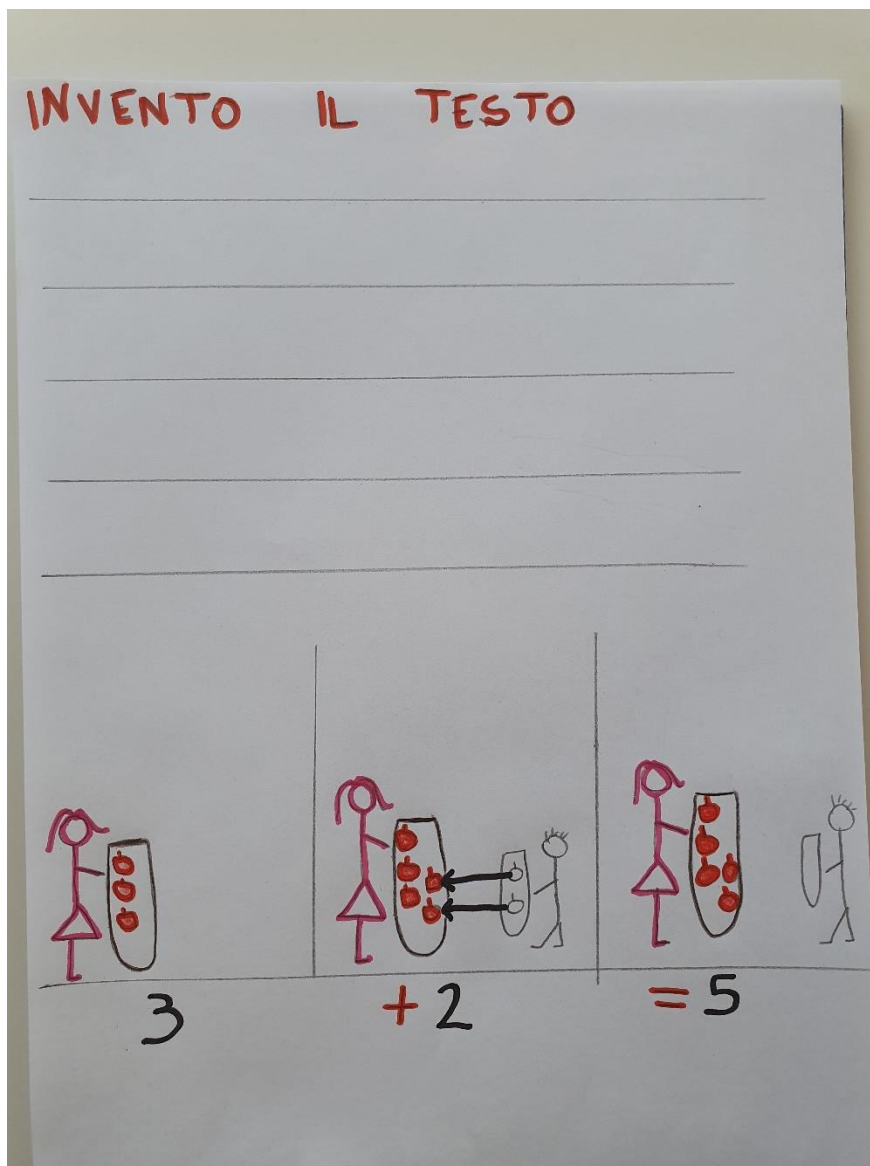
$$9 - 9 = 0$$

$$10 - 10 = 0$$

3. INVENTA IL TESTO DEL PROBLEMA

C'È UN NUOVO PROBLEMA PER TE, MA ANCHE STAVOLTA SEI TU A DOVER INVENTARE IL TESTO DEL PROBLEMA.

OSSERVA L'IMMAGINE QUI SOTTO CON ATTENZIONE E ANCHE L'OPERAZIONE CHE È STATA FATTA PER TROVARE LA SOLUZIONE DEL PROBLEMA.



QUALE POTREBBE ESSERE IL TESTO DEL PROBLEMA? PROVA AD INVENTARLO TU CON I DATI CHE HAI A DISPOSIZIONE: LE IMMAGINI E L'OPERAZIONE.

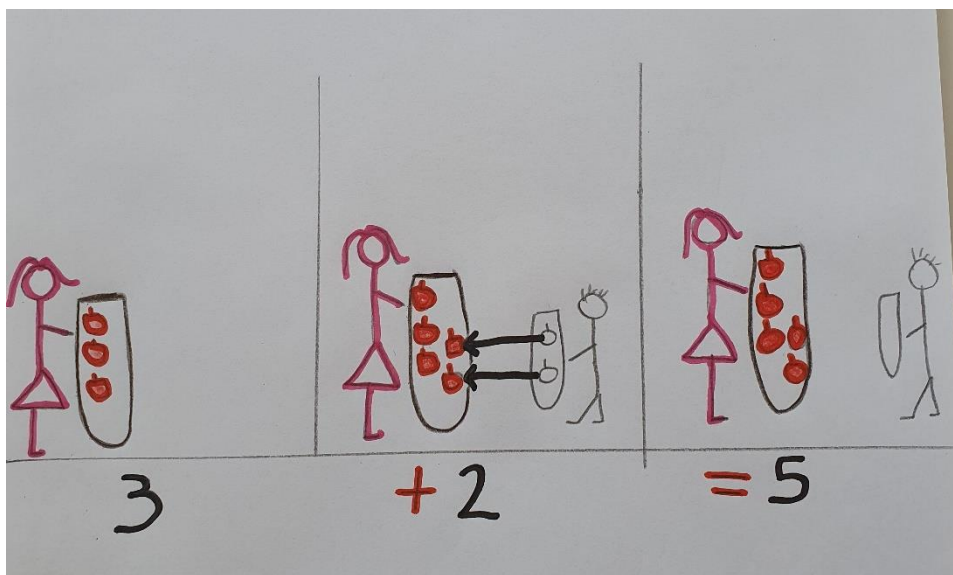
LA MAESTRA TI SPIEGA COME FARE. CLICCA QUI:

<http://www.icrudiano.edu.it/ricordi/2020/05/30/tutorial-matematica-dal-3-all8-giugno/>

QUANDO SEI PRONTO, PRENDI IL QUADERNO GIALLO. A PAGINA PULITA

SCRIVI COME TITOLO (in rosso): **INVENTO IL TESTO.**

SOTTO A MATITA SCRIVI IL TESTO DEL PROBLEMA DA TE INVENTATO. QUINDI
RICOPIA ANCHE L'IMMAGINE E L'OPERAZIONE.



SOTTO SCRIVI A MATITA LA RISPOSTA AL PROBLEMA.

BUON LAVORO!

4. COMPLETA LA SCHEDA IN AUTONOMIA

RIPASSIAMO INSIEME GLI ARGOMENTI FATTI. ECCO PER TE UNA SCHEDA DA COMPLETARE IN AUTONOMIA, SENZA AIUTI E DA INVIARE ALLE MAESTRE ALL'INDIRIZZO MAIL: primeroccafranca@gmail.com

PER LE MAESTRE È MOLTO IMPORTANTE RICEVERLA PER CAPIRE COME STA ANDANDO L'APPRENDIMENTO DEGLI ARGOMENTI DI MATEMATICA FATTI A DISTANZA E PER CAPIRE I TUOI PROGRESSI. GRAZIE MILLE.

PER STAMPARE LA SCHEDA, VAI SUL BLOG:

<http://www.icrudiano.edu.it/ricordi/2020/05/30/tutorial-matematica-dal-3-all8-giugno/>

SE NON PUOI STAMPARLA, RISCRIVILA SUL QUADERNO E COMPLETALA.

1) SVOLGI LE SEGUENTI ADDIZIONI E SOTTRAZIONI CON IL CALCOLO A MENTE

$0 + 11 = \dots\dots\dots$

$12 + 2 = \dots\dots\dots$

$11 + 3 = \dots\dots\dots$

$1 + 13 = \dots\dots\dots$

$5 + 10 = \dots\dots\dots$

$12 + 0 = \dots\dots\dots$

$6 + 9 = \dots\dots\dots$

$8 + 7 = \dots\dots\dots$

$2 + 0 = \dots\dots\dots$

$14 + 1 = \dots\dots\dots$

$7 + 7 = \dots\dots\dots$

$6 + 6 = \dots\dots\dots$

$15 - 6 = \dots\dots\dots$

$11 - 5 = \dots\dots\dots$

$10 - 8 = \dots\dots\dots$

$9 - 2 = \dots\dots\dots$

$14 - 7 = \dots\dots\dots$

$8 - 8 = \dots\dots\dots$

$12 - 0 = \dots\dots\dots$

$7 - 5 = \dots\dots\dots$

$13 - 4 = \dots\dots\dots$

$11 - 7 = \dots\dots\dots$

$15 - 8 = \dots\dots\dots$

$10 - 1 = \dots\dots\dots$



2) SCRIVI I NUMERI IN CIFRA

DODICI _____
DICIANNOVE _____
UNDICI _____
QUINDICI _____
DICIASSETTE _____
DIECI _____
DICIOTTO _____



3) ORDINA I SEGUENTI NUMERI DAL MINORE AL MAGGIORE

14 12 1 8 10 16 19 18 15

4) ORDINA I SEGUENTI NUMERI DAL MAGGIORE AL MINORE

3 19 18 5 12 13 14 17 6

5) RISOLVI IL PROBLEMA

LEGGI CON ATTENZIONE IL TESTO DEL PROBLEMA.


ECCOLO QUI:

NEL PRATO CI SONO 8 MARGHERITE.


LUCIA NE RACCOGLIE 5.

QUANTE MARGHERITE RIMANGONO ALLA FINE NEL PRATO?


DISEGNA NEI 3 RIQUADRI LA SITUAZIONE DESCRITTA NEL PROBLEMA, COME
FACCIAMO SEMPRE E SOTTO SCRIVI L'OPERAZIONE CHE HAI FATTO PER
TROVARE LA SOLUZIONE.



.....



.....



.....

COMPLETA LA RISPOSTA:

ALLA FINE NEL PRATO CI SONO

HAI FATTO PROPRIO UN OTTIMO LAVORO QUESTA SETTIMANA! QUANTO IMPEGNO! BRAVISSIMO, BRAVISSIMA! ECCO LA MEDAGLIA PER I CAMPIONI E PER LE CAMPIONESSE!



WWW.ULTRACOLORINGPAGES.COM

LA SCUOLA STA FINENDO.... LE VACANZE STANNO PER AVERE INIZIO! RIPOSATI, GIOCA E DIVERTITI... OGNI TANTO PERÒ CI SARÀ QUALCHE ESERCIZIO DA FARE CHE LE MAESTRE TI LASCERANNO PER TENERTI IN ALLENAMENTO DURANTE LE VACANZE ESTIVE.



BUONA ESTATE BAMBINI...

*DA BRUCO NUMERINO, BUD E HOLLY CON PINOCCHIO E
DALLE MAESTRE FEDERICA E LAURETTA.*

VI MANDIAMO UN MARE DI BACI!

