

# Compiti di alternativa 5^B

## UN PO' DI OPERAZIONI

**1.** Quale numero devi aggiungere per ottenere 50 000?

$$35\ 000 + \dots = 50\ 000$$

$$9\ 500 + \dots = 50\ 000$$

$$42\ 500 + \dots = 50\ 000$$

$$38\ 500 + \dots = 50\ 000$$



**2.** Quale numero devi aggiungere per ottenere 100 000?

$$15\ 000 + \dots = 100\ 000$$

$$24\ 000 + \dots = 100\ 000$$

$$83\ 500 + \dots = 100\ 000$$

$$90\ 750 + \dots = 100\ 000$$



**3.** Metti in colonna ed esegui le operazioni.

**a**  $21\ 545 + 6\ 345 = \dots$

$$145 + 9 + 2\ 453 = \dots$$

$$1,348 + 36,759 = \dots$$

$$2\ 025,8 + 13\ 165,75 = \dots$$

$$37,6 + 715 + 19,574 = \dots$$

**b**  $12\ 008 - 1\ 934 = \dots$

$$411\ 234 - 24\ 876 = \dots$$

$$46,15 - 44,57 = \dots$$

$$2\ 120 - 834,32 = \dots$$

$$1\ 750 - 898,132 = \dots$$

**c**  $49 \times 8 = \dots$

$$185 \times 6 = \dots$$

$$123,5 \times 6,98 = \dots$$

$$47,5 \times 44,57 = \dots$$

$$1,247 \times 7,5 = \dots$$

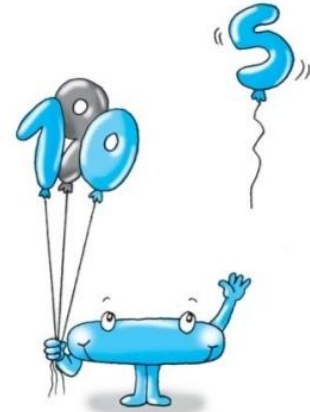
**d**  $8\ 150 : 5 = \dots$

$$31\ 216 : 4 = \dots$$

$$618,7 : 5 = \dots$$

$$146,2 : 32 = \dots$$

$$141,75 : 63 = \dots$$



**4.** Scrivi i seguenti numeri in lettere e scomponili in tabella.

	hk	dak	uk	h	da	u
125 200 .....	.....	.....	.....	.....	.....	.....
317 650 .....	.....	.....	.....	.....	.....	.....
24 327 .....	.....	.....	.....	.....	.....	.....
892 504 .....	.....	.....	.....	.....	.....	.....
63 054 .....	.....	.....	.....	.....	.....	.....
524 315 .....	.....	.....	.....	.....	.....	.....

**5.** Completa le tabelle.

**a**

$\times$	10	100	1 000
8,35	.....	.....	.....
0,785	.....	.....	.....
0,018	.....	.....	.....
12,007	.....	.....	.....



**b**

:	10	100	1 000
15 124	.....	.....	.....
346,8	.....	.....	.....
1 234,3	.....	.....	.....
34,6	.....	.....	.....

## PRECEDENTE E SUCCESSIVO


Scrivi il numero precedente e il successivo dei seguenti numeri.

PRECEDENTE		SUCCESSIVO
	<b>3.890</b>	
	<b>593</b>	
	<b>9.974</b>	
	<b>645</b>	



PRECEDENTE		SUCCESSIVO
	<b>9.671</b>	
	<b>999</b>	
	<b>8.340</b>	
	<b>5.001</b>	

PRECEDENTE		SUCCESSIVO
	<b>9.901</b>	
	<b>7.581</b>	
	<b>357</b>	
	<b>2.356</b>	



- Inserisci i numeri al giusto posto nella tabella.

	uk	h	da	u	d	c	m
34,099			3	4	0	9	9
17,17							
43,087							
0,999							
122,4							
303,707							
56,009							
19,019							
405,001							
1000,001							
456,789							
0,022							
700,99							
401,188							
66,199							
1015,64							
3499,011							
2022,127							

! Risolvi sul quaderno i seguenti problemi.

- a Un pescivendolo vende 15,5 kg di pesce spada a € 22 al chilogrammo e 5,7 kg di merluzzo € 9,40 al chilogrammo. Quanto incassa in tutto?
- b Un agricoltore acquista un trattore e alla consegna versa € 4 560; concorda di pagare la rimanenza in 12 rate da € 345,50 ciascuna. Qual è il costo del trattore?
- c Un cartolaio compera 48 scatole di pennarelli al prezzo di € 3,20 ciascuna, 24 scatole di pastelli che costano € 1,80 la scatola, 25 compassi che costano € 2,15 l'uno e 240 quaderni a € 0,56 l'uno. Quanto spende in tutto?

