



8 Trasforma le percentuali in frazioni decimali e colora.




- Nuoto 40%
- Pallavolo 30%
- Ciclismo 20%
- Tennis 10%



9 Osserva il grafico e completa le percentuali, poi, calcola le quantità.

La fabbrica "Milledolci" produce ogni giorno 28 500 caramelle.



-  Alla menta%
-  Al miele%
-  Alla fragola%

La fabbrica "Milledolci" produce:

- caramelle alla menta;
- caramelle al miele;
- caramelle alla fragola.