

Martedì 3 marzo 2020

Storia.

Sono ormai diversi giorni che non ci vediamo! Ogni giorno ci svegliamo con la speranza di poter tornare a scuola per continuare a imparare tutti insieme. Purtroppo però, sappiamo che fino a lunedì 9 marzo non rientreremo di sicuro. Per questo ti proponiamo di costruire sul quaderno ROSA, un calendario dell'attesa del rientro a scuola. La tua linea dovrà iniziare da oggi, martedì 3 marzo e arrivare fino a lunedì 9 marzo. Se non ti ricordi come si fa, vai a vedere quello che abbiamo fatto per l'attesa del Natale.

Matematica.

Copia il testo del problema sul quaderno e risolvillo.

PROBLEMA 1: L'ORTO

IL MAESTRO ALBERTO E LA MAESTRA LAURA HANNO INIZIATO I LAVORI NELL'ORTO. IL MAESTRO HA SEMINATO 16 PIANTINE DI POMODORI E 12 DI PEPERONI. LA MAESTRA 10 PIANTINE DI MELANZANE E 5 DI CIPOLLE.

QUANTE PIANTINE HA SEMINATO IL MAESTRO ALBERTO?

Mercoledì 4 marzo

Italiano.

1. Leggi le seguenti parole

Quadrato, aquila, cubo, cuscino, curva, cinque, squali, tranquillo, cugino, quadretto, uccia, cucina, curare, squillare, liquore, alcuni, quello, cucchiaino, liquirizia, cucito.

2. Cerca di dividerle in due gruppi. Attenzione: non farti ingannare dal loro significato e concentrati su come sono scritte.

Sei riuscito? Se sì continua a leggere, altrimenti fermati e rifletti ancora.

I due gruppi sono: parole con QU e parole con CU.

3. Ora riscrivi in corsivo sul quaderno giallo i due gruppi di parole che hai creato dividendo la pagina in due colonne così

QU | CU

4. Infine cerca di scoprire la regola: perché un gruppo è scritto con QU e l'altro con CU?


Scrivi la regola che hai pensato sul quaderno.

5. Scegli alcune parole dai due gruppi e costruisci delle frasi sul quaderno.


Matematica.

IMMAGINA UN CAMBIO

A)



B)



Giovedì 5 marzo 2020

INGLESE: SE PUOI, PRENDENDO SPUNTO DA QUESTE IMMAGINI, PROVA A COSTRUIRE LE TUE FLASHCARDS DELLE PARTI DEL CORPO.

Body parts vocabulary



head



hair



mouth



nose



teeth



ear



eye



face



cheek



hand



finger



arm



leg



foot



knee

ENGLISH
learn-online

www.english-learn-online.com

learn with games, puzzles, quizzes and flashcards

Matematica.

Copia il testo del problema sul quaderno e risolvilò.

PROBLEMA 2: L'ORTO

IL MAESTRO ALBERTO E LA MAESTRA LAURA HANNO INIZIATO I LAVORI NELL'ORTO. IL MAESTRO HA SEMINATO 16 PIANTINE DI POMODORI E 12 DI PEPERONI. LA MAESTRA 10 PIANTINE DI MELANZANE E 5 DI CIPOLLE.

QUANTE PIANTINE HA SEMINATO LA MAESTRA LAURA?

Venerdì 6 marzo 2020

Italiano.

- Leggi con attenzione il testo.

La casa di Geppetto

La casa di Geppetto era una stanzina che pigliava luce da un sottoscala.

La mobilia non poteva essere più semplice: una seggiola cattiva, un letto poco buono e un tavolo tutto rovinato.

Nella parete in fondo si vedeva un caminetto col fuoco dipinto e, accanto al fuoco, c'era dipinta una pentola che bolliva allegramente e mandava fuori una nuvola di fumo, che pareva fumo per davvero. Appena entrò in casa Geppetto prese subito i suoi arnesi e si pose a intagliare e a fabbricare il suo burattino. -Che nome gli metterò? - disse fra sé e sé. – Lo voglio chiamar Pinocchio. Questo nome gli porterà fortuna.

(tratto da "Le avventure di Pinocchio" di Carlo Collodi)


Hai letto davvero bene? Se sì, sei pronto/a a rispondere sul quaderno in modo completo alle seguenti domande, altrimenti rileggi con più concentrazione.

1. Che cosa descrive l'autore?
 2. Da che cosa era illuminata la stanza?
 3. Quali e come erano i mobili della stanza?
 4. Come era la pentola che bolliva?
- Ora che ti è tutto chiaro rappresenta sul quaderno la casa di Geppetto; non tralasciare nessun particolare.

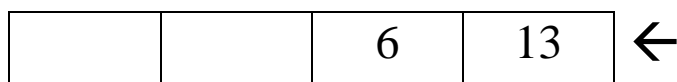
Matematica.

IMMAGINA UN CAMBIO

C)



D)



Sabato 7 marzo 2020

Storia.

Continua a ripassare il lavoro sull'anno solare come hai fatto settimana scorsa.

Chiedi ad almeno 10 componenti della tua famiglia (genitori, fratelli, nonni, zii, cugini...) oppure ad amici le loro date di nascita e scrivile nei due modi che conosci (un esempio per chi non si ricorda: 29 febbraio 2050 – 29/02/2050). Aggiungi vicino anche la stagione.

Matematica.

Copia il testo del problema sul quaderno e risolvillo.

PROBLEMA 3: L'ORTO

IL MAESTRO ALBERTO E LA MAESTRA LAURA HANNO INIZIATO I LAVORI NELL'ORTO. IL MAESTRO HA SEMINATO 16 PIANTINE DI POMODORI E 12 DI PEPERONI. LA MAESTRA 10 PIANTINE DI MELANZANE E 5 DI CIPOLLE.

QUANTE PIANTINE HANNO SEMINATO I MAESTRI IN TUTTO?

RICORDATI OGNI GIORNO DI DEDICARE IL TEMPO A" LASCIAMMI LEGGERE".